

**Способы решения
планиметрических задач на
отношения длин отрезков и
площадей**

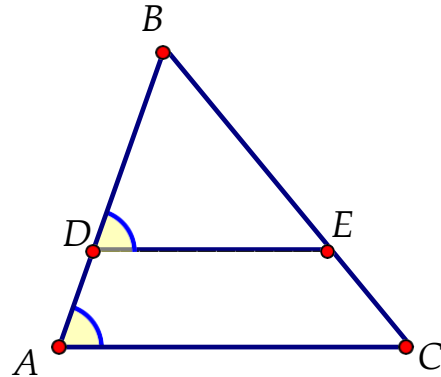
**Тихомирова Наталья
Николаевна
учитель математики
лицей № 2, г. Рыбинск**

Отношение отрезков. Подобие треугольников

Полезные факты

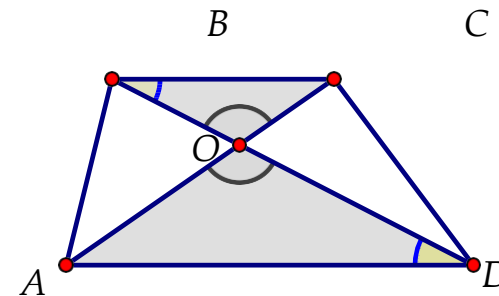
Типичные случаи подобия треугольников

1. Параллельный отрезок в треугольнике



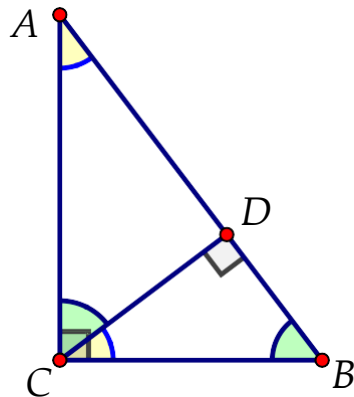
$DE \parallel AC$
 $\triangle DBE \sim \triangle ABC$

2. "Песочные часы"



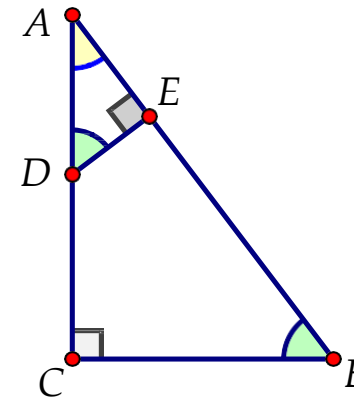
$BC \parallel AD$
 $\triangle BOC \sim \triangle DOA$

3. Высота, проведенная к гипотенузе



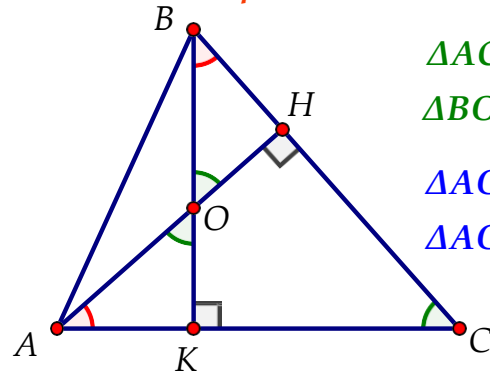
$\triangle ACD \sim \triangle CBD$
 $\triangle ACD \sim \triangle ABC$
 $\triangle CBD \sim \triangle ABC$

4. Перпендикуляр, опущенный на гипотенузу



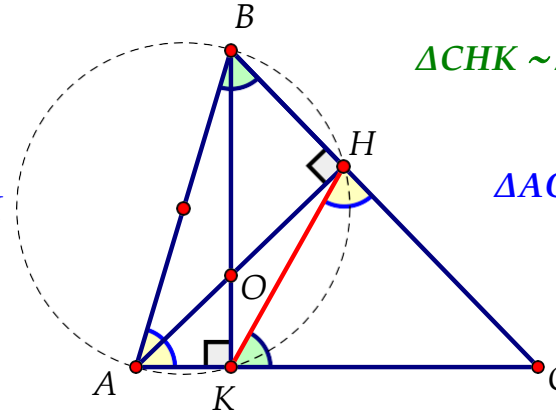
$\triangle ADE \sim \triangle ABC$

5. Высоты, проведенные в треугольнике I



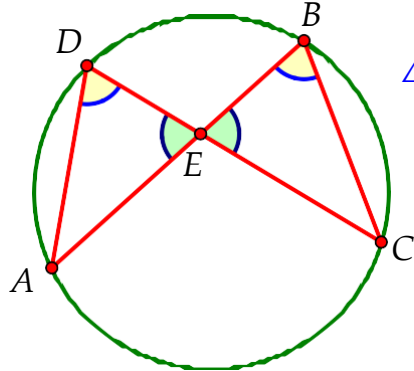
$\triangle ACH \sim \triangle BCK$
 $\triangle BOH \sim \triangle BCK$
 $\triangle AOK \sim \triangle BOH$
 $\triangle AOK \sim \triangle ACH$
 $\triangle ACH \sim \triangle BOH$
 $\triangle BOH \sim \triangle ACH$

6. Высоты, проведенные в треугольнике II



$\triangle CHK \sim \triangle CAB$ $k = \frac{CH}{AC} = |\cos C|$
 $\triangle AOB \sim \triangle KOH$

7. Пересекающиеся хорды

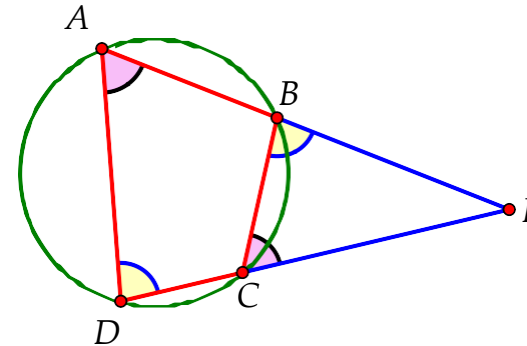


$\triangle ADE \sim \triangle CBE \Rightarrow \frac{AE}{CE} = \frac{DE}{BE}$

$AE \cdot BE = DE \cdot CE$

теорема об отрезках пересекающихся хорд

8. Четырехугольник вписан в окружность - продлим противоположные стороны до их пересечения

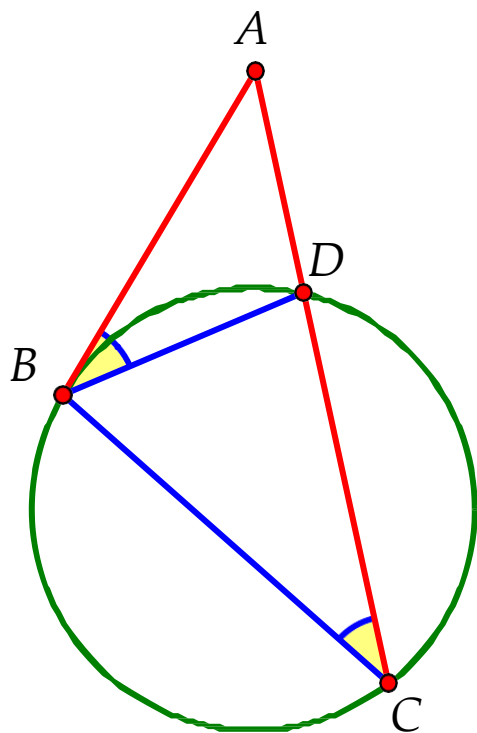


$\triangle BEC \sim \triangle DEA \Rightarrow \frac{BE}{DE} = \frac{CE}{AE}$

$AE \cdot BE = DE \cdot CE$

теорема о секущих

9. Касательная и секущая



AB - касательная, AC - секущая

$$\triangle ABD \sim \triangle ACB \Rightarrow \frac{AB}{AC} = \frac{AD}{AB}$$

$$AB^2 = AD \cdot AC$$

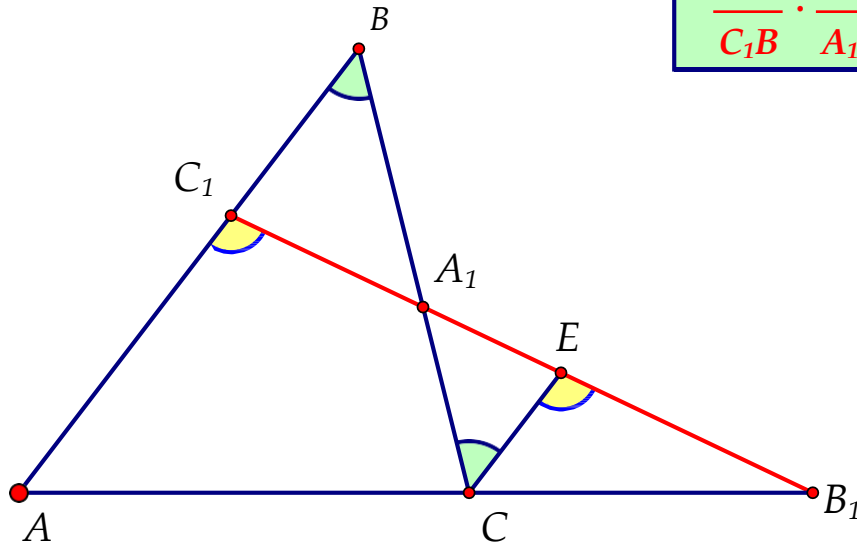
теорема о касательной
и секущей

Редкие теоремы планиметрии

1. Теорема Менелая.

Пусть на сторонах AB , BC и продолжении стороны AC треугольника ABC взяты соответственно точки C_1 , A_1 и B_1 . Точки A_1 , B_1 , C_1 лежат на одной прямой тогда и только тогда, когда выполняется равенство:

$$\frac{AC_1}{C_1B} \cdot \frac{BA_1}{A_1C} \cdot \frac{CB_1}{B_1A} = 1$$



Доказательство:

$CE \parallel AB$ (по построению)

$$\triangle AC_1B_1 \sim \triangle CEB_1 \Rightarrow \frac{AC_1}{CE} = \frac{B_1A}{CB_1} \Rightarrow CE = \frac{AC_1 \cdot CB_1}{B_1A} \quad (1)$$

$$\triangle C_1BA_1 \sim \triangle ECA_1 \Rightarrow \frac{C_1B}{CE} = \frac{BA_1}{A_1C} \Rightarrow CE = \frac{C_1B \cdot A_1C}{BA_1} \quad (2)$$

Приравнявая (1) и (2), получим:

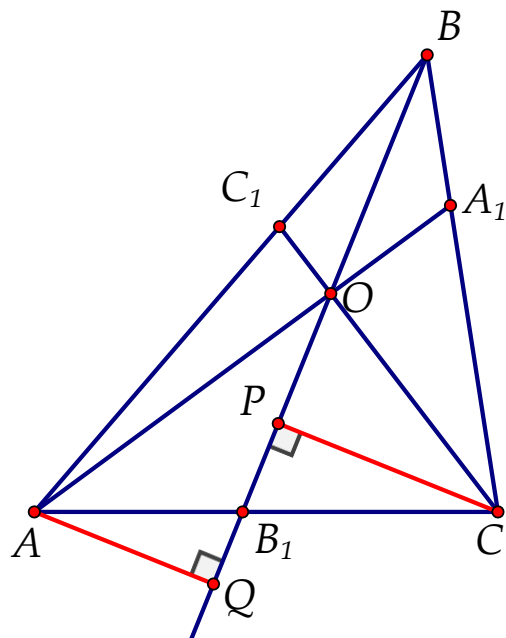
$$\frac{AC_1 \cdot CB_1}{B_1A} = \frac{C_1B \cdot A_1C}{BA_1} \quad \text{Отсюда:} \quad \frac{AC_1}{C_1B} \cdot \frac{BA_1}{A_1C} \cdot \frac{CB_1}{B_1A} = 1$$

2. Теорема Чеви.

Пусть на сторонах AB , BC и AC треугольника ABC взяты соответственно точки C_1 , A_1 и B_1 . Прямые AA_1 , BB_1 , CC_1 пересекаются в одной точке тогда и только тогда, когда выполняется равенство:

$$\frac{AC_1}{C_1B} \cdot \frac{BA_1}{A_1C} \cdot \frac{CB_1}{B_1A} = 1 \quad (*)$$

Доказательство:



$AQ \perp BB_1, CP \perp BB_1$

$$S_{\triangle AOB} = 0,5 \cdot OB \cdot AQ; \quad S_{\triangle BOC} = 0,5 \cdot OB \cdot CP; \quad \frac{S_{\triangle AOB}}{S_{\triangle BOC}} = \frac{AQ}{CP} \quad (1)$$

$$\triangle AQB_1 \sim \triangle CPB_1 \Rightarrow \frac{AQ}{CP} = \frac{B_1A}{CB_1} \quad (2)$$

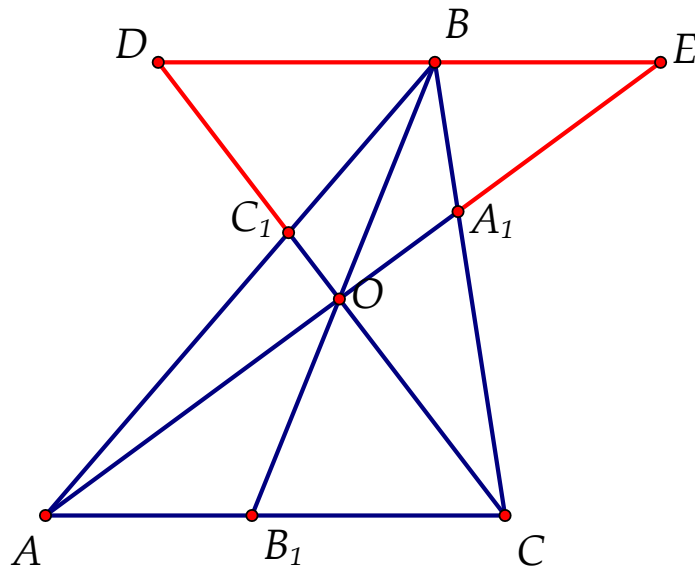
Из (1) и (2) следует: $\frac{S_{\triangle AOB}}{S_{\triangle BOC}} = \frac{B_1A}{CB_1} \quad (3)$ Аналогично: $\frac{S_{\triangle AOC}}{S_{\triangle BOC}} = \frac{AC_1}{C_1B} \quad (4)$

$$\frac{S_{\triangle AOB}}{S_{\triangle AOC}} = \frac{BA_1}{A_1C} \quad (5)$$

Подставим (3), (4) и (5) в равенство (*): $\frac{S_{\triangle AOC}}{S_{\triangle BOC}} \cdot \frac{S_{\triangle AOB}}{S_{\triangle AOC}} \cdot \frac{S_{\triangle BOC}}{S_{\triangle AOB}} = 1; 1 = 1$ (верно)

3. Теорема Ван-Обеля.

Пусть на сторонах AB , BC и AC треугольника ABC взяты соответственно точки C_1 , A_1 и B_1 . Если прямые AA_1 , BB_1 , CC_1 пересекаются в одной точке, то имеет место равенство:



$$\frac{BO}{OB_1} = \frac{BA_1}{A_1C} + \frac{BC_1}{C_1A}$$

Доказательство:

$DE \parallel AC$

$$\triangle AOC \sim \triangle DOE \Rightarrow \frac{BO}{OB_1} = \frac{DE}{AC} = \frac{DB + BE}{AC} = \frac{DB}{AC} + \frac{BE}{AC} \quad (1)$$

$$\triangle EBA_1 \sim \triangle ACA_1 \Rightarrow \frac{BE}{AC} = \frac{BA_1}{A_1C} \quad (2)$$

$$\triangle BDC_1 \sim \triangle ACC_1 \Rightarrow \frac{DB}{AC} = \frac{BC_1}{C_1A} \quad (3)$$

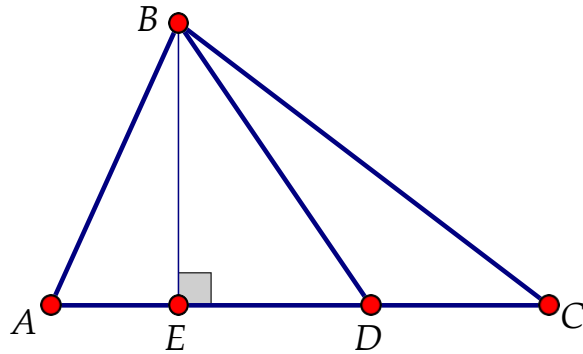
Подставив (2) и (3) в (1), получим:

$$\frac{BO}{OB_1} = \frac{BA_1}{A_1C} + \frac{BC_1}{C_1A}$$

Отношение площадей.

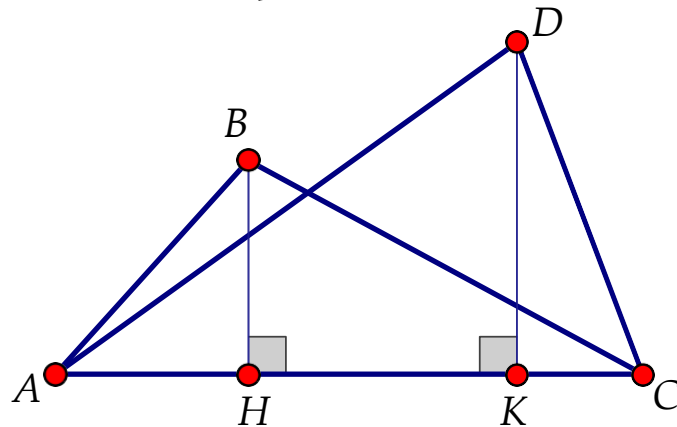
Полезные факты

1. Если два треугольника имеют равные высоты, то отношение их площадей равно отношению длин оснований (сторон, на которые опущены эти высоты)



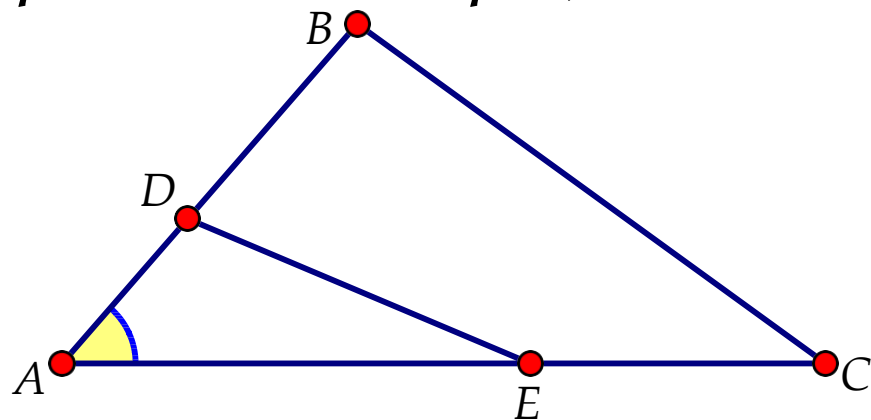
$$\frac{S_{\triangle ABD}}{S_{\triangle CBD}} = \frac{AD}{CD}$$

2. Если два треугольника имеют одинаковое основание, то отношение их площадей равно отношению высот, проведенных к этому основанию:



$$\frac{S_{\triangle ABC}}{S_{\triangle ADC}} = \frac{BH}{DK}$$

3. Площади треугольников, имеющих равный угол, относятся как произведения сторон, заключающих этот угол



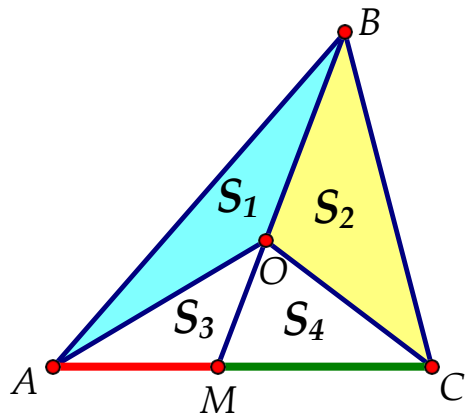
$$\frac{S_{\triangle ADE}}{S_{\triangle ABC}} = \frac{AD}{AB} \cdot \frac{AE}{AC}$$

4. Отношение площадей подобных треугольников равно квадрату коэффициента подобия

$$\frac{S_1}{S_2} = k^2$$

5. СВОЙСТВО "ДЕЛЬТАПЛАНА"

Для любой точки O на чевиане BM треугольника ABC площади треугольников ABO и BCO относятся как отрезки AM и CM .

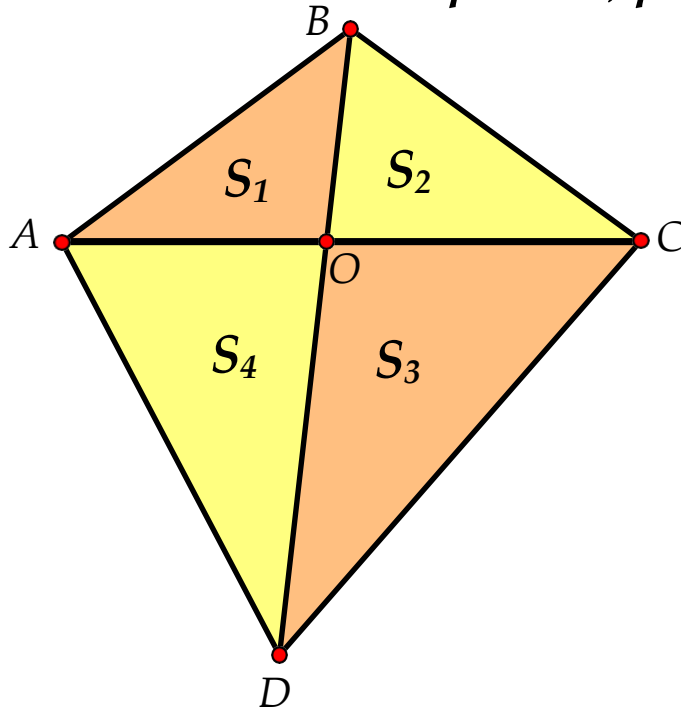


$$\frac{S_{\triangle ABO}}{S_{\triangle BCO}} = \frac{AM}{CM}$$

$$\frac{S_1}{S_3} = \frac{BO}{OM} = \frac{S_2}{S_4} \quad \frac{S_1}{S_2} = \frac{S_3}{S_4} = \frac{AM}{CM}$$

6. СВОЙСТВО "ВОЗДУШНОГО ЗМЕЯ"

Если диагонали разбивают четырехугольник на четыре треугольника, то произведения площадей треугольников, прилегающих к его противоположным сторонам, равны.



$$S_1 \cdot S_3 = S_2 \cdot S_4$$

$$\frac{S_1}{S_4} = \frac{BO}{OD} = \frac{S_2}{S_3}$$

1. Биссектриса AD треугольника ABC делит его медиану BM пополам.

а) Докажите, что площадь треугольника ACD вдвое больше площади треугольника ABD

б) В каком отношении медиана BM делит биссектрису AD

1 способ

$$а) \frac{BD}{CD} = \frac{AB}{AC} \text{ (свойство биссектрисы)}$$

AO - биссектриса и медиана $\triangle ABM \Rightarrow \triangle ABM$ равнобедренный

$$AB = AM = \frac{1}{2}AC; \quad \frac{BD}{CD} = \frac{1}{2}; \quad \frac{S_{\triangle ABD}}{S_{\triangle ACD}} = \frac{BD}{CD} = \frac{1}{2} \Rightarrow S_{\triangle ACD} = 2S_{\triangle ABD}$$

2 способ

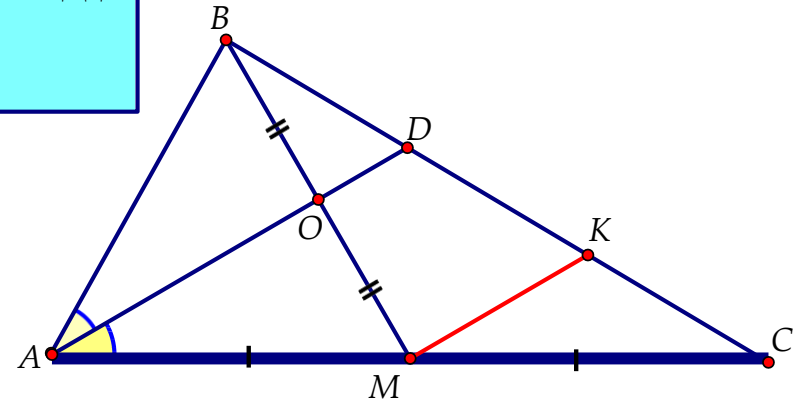
$$а) \text{ По теореме Менелая для } \triangle BMC \text{ и секущей } AD: \quad \frac{BD}{DC} \cdot \frac{CA}{AM} \cdot \frac{MO}{OB} = 1; \quad \frac{BD}{DC} \cdot \frac{2}{1} \cdot \frac{1}{1} = 1; \quad \frac{BD}{DC} = \frac{1}{2};$$

$$\frac{S_{\triangle ABD}}{S_{\triangle ACD}} = \frac{BD}{DC} = \frac{1}{2} \Rightarrow S_{\triangle ACD} = 2S_{\triangle ABD}$$

3 способ

а) Проведем $MK \parallel AD$. Тогда K - середина CD (по т. Фалеса), $CK = DK$

$$\text{Аналогично D - середина BK, } BD = DK; \text{ Значит, } BD = DK = CK \text{ и } \frac{BD}{CD} = \frac{1}{2}; \quad \frac{S_{\triangle ABD}}{S_{\triangle ACD}} = \frac{BD}{DC} = \frac{1}{2} \Rightarrow S_{\triangle ACD} = 2S_{\triangle ABD}$$



4 способ

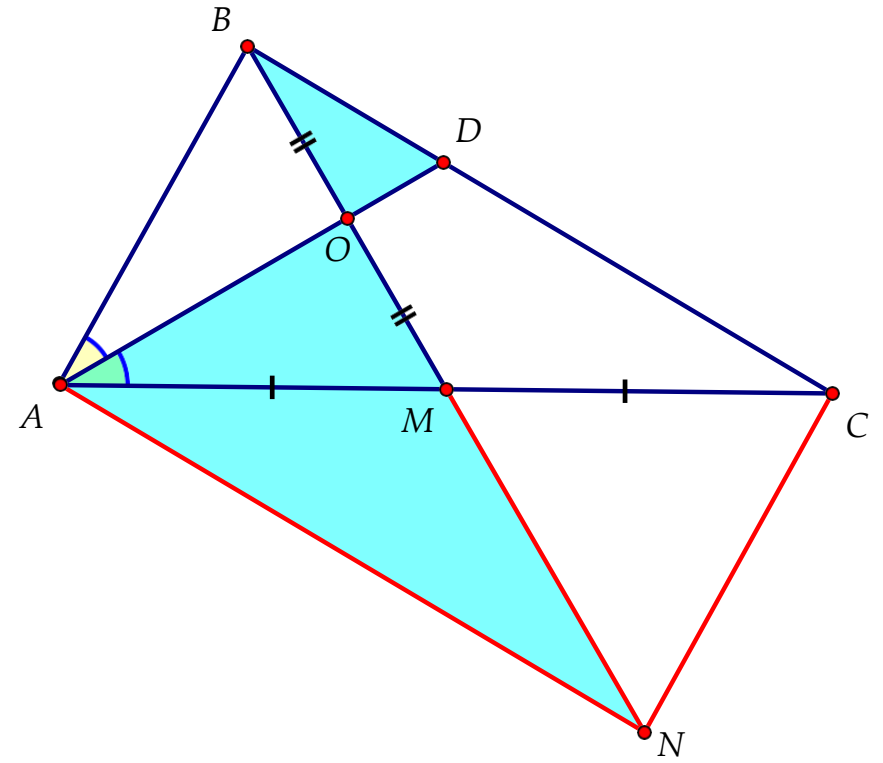
а) На продолжении медианы BM отложим $MN = BM$

$ABCN$ - параллелограмм

$\triangle BOD \sim \triangle NOA$ (по двум углам), $BD : AN = BO : ON = 1 : 3$

$AN = BC \Rightarrow BD : BC = 1 : 3, BD : CD = 1 : 2$

$$\frac{S_{\triangle ABD}}{S_{\triangle ACD}} = \frac{BD}{CD} = \frac{1}{2} \Rightarrow S_{\triangle ACD} = 2S_{\triangle ABD}$$



1. Биссектриса AD треугольника ABC делит его медиану BM пополам. а)
Докажите, что площадь треугольника ACD вдвое больше площади
треугольника ABD
б) В каком отношении медиана BM делит биссектрису AD

1 способ

б) По теореме Менелая для $\triangle ACD$ и секущей MB:

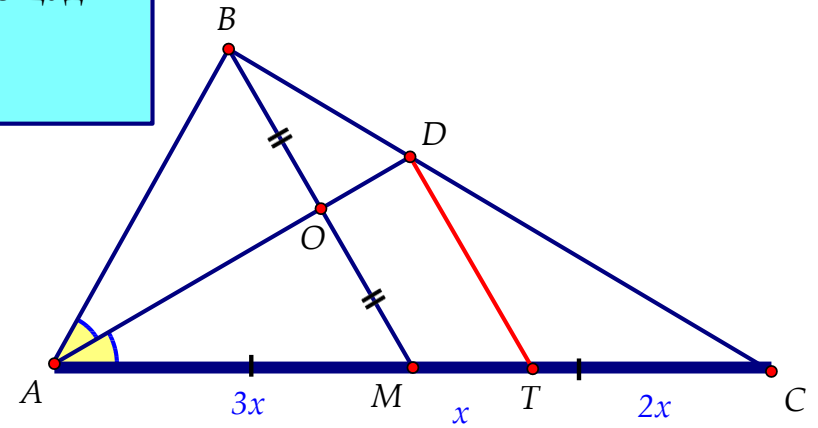
$$\frac{AO}{OD} \cdot \frac{DB}{BC} \cdot \frac{CM}{AM} = 1; \quad \frac{AO}{OD} \cdot \frac{1}{3} \cdot \frac{1}{1} = 1; \quad \frac{AO}{OD} = \frac{3}{1}.$$

2 способ

б) Проведем $DT \parallel BM$. $CT : TM = CD : BD = 2 : 1$ (по теореме о пропорциональных отрезках)

Пусть $MT = x$, $CT = 2x$; $AM = MC = 3x$;

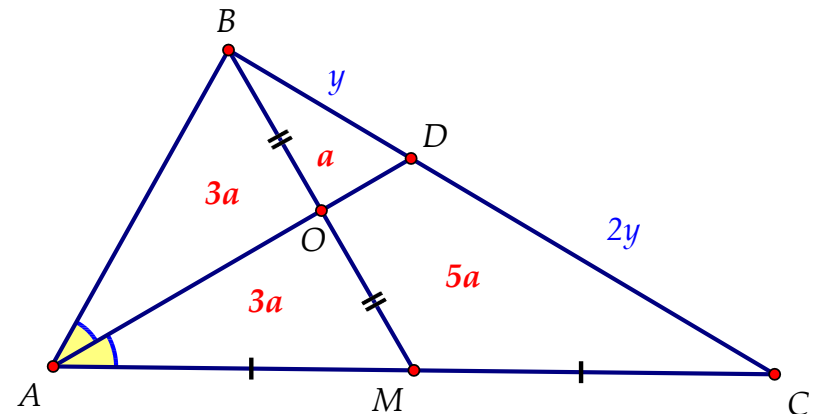
$AO : OD = AM : MT = 3 : 1$ (по теореме о пропорциональных отрезках)



3 способ

б) $\frac{S_{\triangle BOD}}{S_{\triangle BMC}} = \frac{BO}{BM} \cdot \frac{BD}{BC} = \frac{1}{2} \cdot \frac{1}{3} = \frac{1}{6}$. Пусть $S_{\triangle BOD} = a$, тогда $S_{\triangle MODC} = 5a$

$$S_{\triangle AOB} = S_{\triangle AOM} = \frac{1}{2} S_{\triangle ABM} = \frac{1}{2} S_{\triangle CBM} = 3a; \quad \frac{AO}{OD} = \frac{S_{\triangle AOB}}{S_{\triangle BOD}} = \frac{3a}{a} = \frac{3}{1}$$



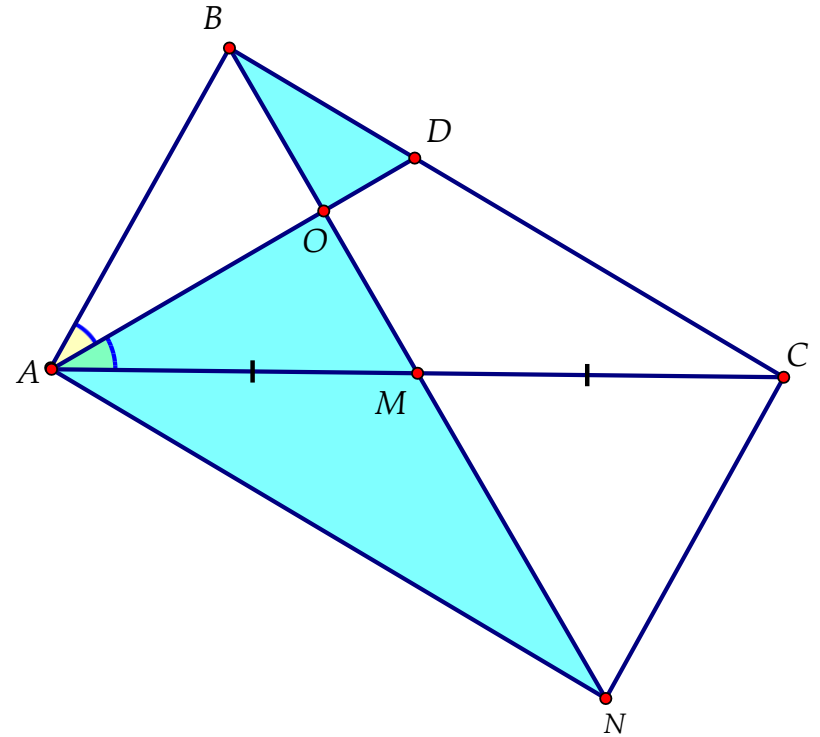
4 способ

б) На продолжении медианы BM за точку M отложим отрезок $MN = BM$

$ABCN$ - параллелограмм $\Rightarrow AN = BC$

$\triangle BOD \sim \triangle NOA$ (по двум углам): $AO : OD = AN : BD = BC : BD = 3 : 1$

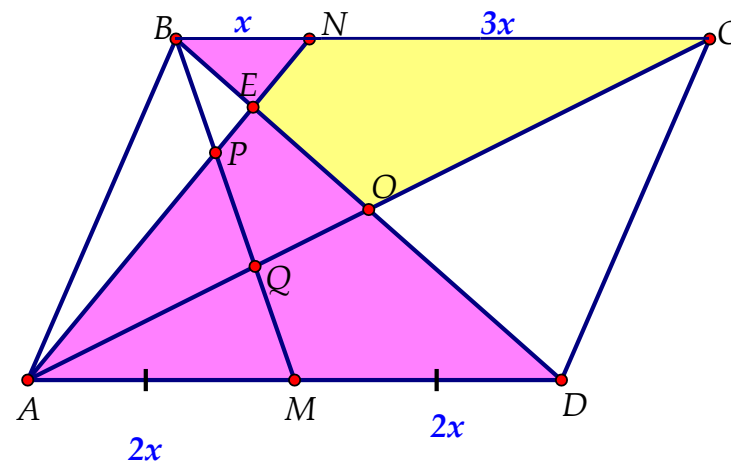
Ответ: б) $3 : 1$



2. На сторонах AD и BC параллелограмма $ABCD$ взяты соответственно точки M и N , причём M — середина AD , а $BN : NC = 1 : 3$.

а) Докажите, что прямые AN и AC делят отрезок BM на три равные части.

б) Найдите площадь четырёхугольника, образованного пересечением прямых AN , AC , BD и BC , если площадь параллелограмма $ABCD$ равна 40.



а) O - середина $BD \Rightarrow Q$ - точка пересечения медиан $\triangle ABD \Rightarrow QM = \frac{1}{3}BM$

$$\triangle BPN \sim \triangle MPA \text{ (по двум углам)} \Rightarrow \frac{BP}{PM} = \frac{BN}{AM} = \frac{1}{2} \Rightarrow BP = \frac{1}{3}BM$$

Значит, $PQ = \frac{1}{3}BM$. Таким образом, $BP = PQ = QM$

б) $\triangle BEN \sim \triangle DEA$ (по двум углам) $\Rightarrow \frac{BE}{DE} = \frac{BN}{AD} = \frac{1}{4} \Rightarrow BE = y, DE = 4y, BD = 5y; BO = 2,5y$

$$\frac{S_{\triangle BEN}}{S_{\triangle BOC}} = \frac{0,5 \cdot BE \cdot BN \cdot \sin \angle NBE}{0,5 \cdot BO \cdot BC \cdot \sin \angle NBE} = \frac{y \cdot x}{2,5y \cdot 4x} = \frac{1}{10} \Rightarrow S_{OENC} = \frac{9}{10} S_{\triangle BOC} = \frac{9}{10} \cdot \frac{1}{4} \cdot S_{\triangle ABCD} = 9$$

Ответ: б) 9

2. На сторонах AD и BC параллелограмма $ABCD$ взяты соответственно точки M и N , причём M — середина AD , а $BN : NC = 1 : 3$.

а) Докажите, что прямые AN и AC делят отрезок BM на три равные части.

б) Найдите площадь четырёхугольника, образованного пересечением прямых AN , AC , BD и BC , если площадь параллелограмма $ABCD$ равна 40.

2 способ

б) Пусть $BD = 10a$

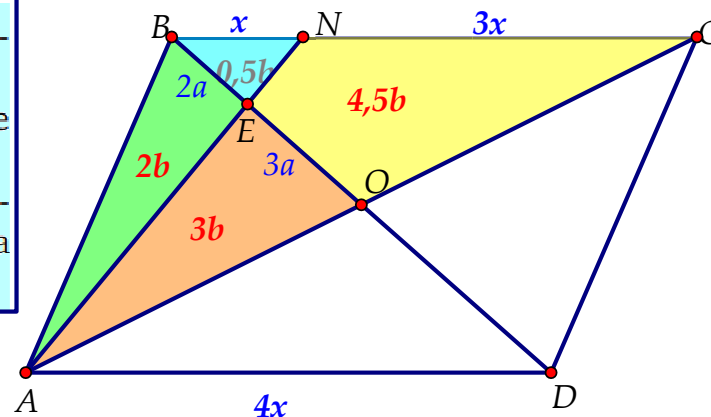
$$\triangle BEN \sim \triangle DEA \text{ (по двум углам)} \Rightarrow BE = \frac{1}{5}BD = 2a; \quad EO = BO - BE = 3a$$

$$\frac{S_{\triangle ABE}}{S_{\triangle AOE}} = \frac{BE}{EO} = \frac{2}{3}. \quad \text{Пусть } S_{\triangle ABE} = 2b, \text{ тогда } S_{\triangle AOE} = 3b$$

$$\frac{S_{\triangle BEN}}{S_{\triangle ABE}} = \frac{EN}{AE} = \frac{1}{4}; \quad S_{\triangle BEN} = \frac{1}{4}S_{\triangle ABE} = 0,5b. \quad BO - \text{ медиана } \triangle ABC, \quad S_{\triangle BOC} = S_{\triangle AOB} = 5b. \quad \text{Тогда, } S_{OENC} = S_{\triangle BOC} - S_{\triangle BEN} = 5b - 0,5b = 4,5b.$$

$$S_{\triangle ABC} = 0,5S_{\triangle ABCD} = 20; \quad 10b = 20, \quad b = 2; \quad S_{OENC} = 4,5b = 9.$$

Ответ: б) 9



3. На основаниях AD и BC трапеции $ABCD$ отмечены точки M и N соответственно, а на боковых сторонах AB и CD — точки K и L соответственно. При этом $DM : AM = CN : BN = BK : AK = CL : LD = 1 : 2$.

а) Докажите, что четырёхугольник $KMLN$ — трапеция.

б) Известно, что $AD = 3BC$. В каком отношении диагональ BD трапеции $ABCD$ делит боковые стороны трапеции $KMLN$?

$$\left. \begin{array}{l} \text{а) } CN : CB = CL : CD \Rightarrow NL \parallel BD \\ AK : AB = AM : AD \Rightarrow KM \parallel BD \end{array} \right\} \Rightarrow NL \parallel KM$$

$$\Delta CNL \sim \Delta CBD \Rightarrow NL = \frac{1}{3}BD; \quad \Delta AKM \sim \Delta ABD \Rightarrow KM = \frac{2}{3}BD; \quad NL \neq KM$$

Значит, $KMLN$ - трапеция.

$$\text{б) } BD \cap KN = Q, \quad BD \cap LM = P; \quad KL \cap BD = F;$$

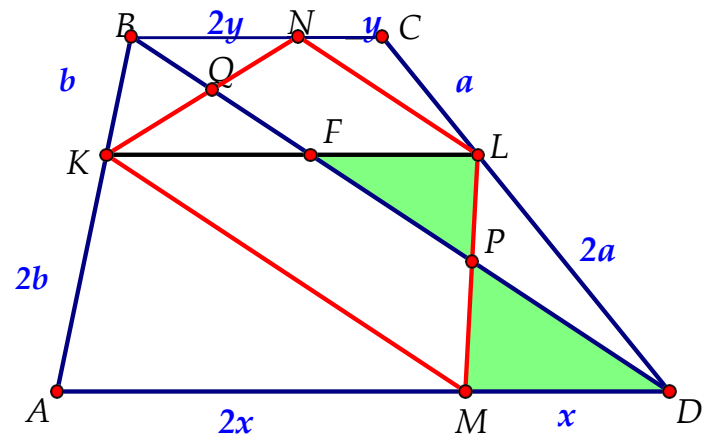
$$AK : KB = DL : LC = 2 : 1 \Rightarrow KL \parallel AD$$

$$\Delta FDL \sim \Delta BDC \Rightarrow FL = \frac{2}{3}BC; \quad MD = \frac{1}{3}AD = \frac{1}{3} \cdot 3BC = BC$$

$$\Delta FPL \sim \Delta DPM \Rightarrow LP : PM = FL : MD = 2 : 3$$

Так как $KM \parallel BD$, то $NQ : QK = LP : PM = 2 : 3$.

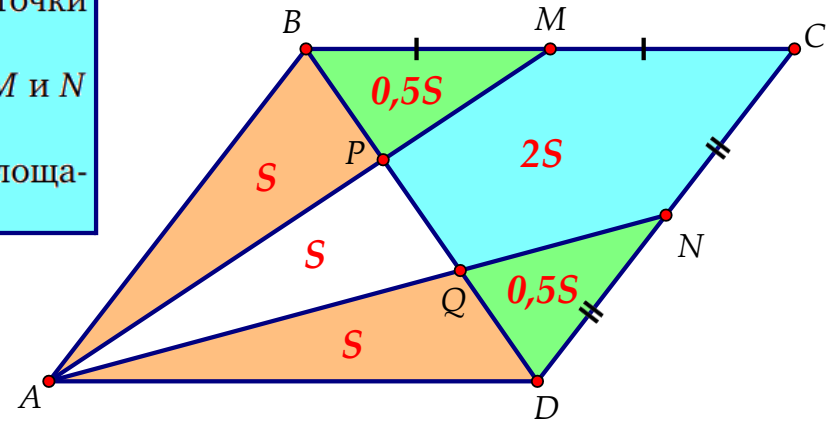
Ответ: б) 2 : 3



4. На диагонали BD параллелограмма $ABCD$ отмечены точки P и Q , причём $BP = PQ = QD$.

а) Докажите, что прямые AP и AQ проходят через середины M и N сторон BC и CD соответственно.

б) Найдите отношение площади пятиугольника $CMPQN$ к площади параллелограмма $ABCD$.



$$а) \triangle MPB \sim \triangle APD \text{ (по двум углам)} \Rightarrow \frac{BM}{AD} = \frac{PB}{PD} = \frac{1}{2}$$

$$\Rightarrow BM = \frac{1}{2}AD = \frac{1}{2}BC \Rightarrow M - \text{середина } BC$$

$$\text{Аналогично из подобия } \triangle DQN \text{ и } \triangle BQA: DN = \frac{1}{2}CD \Rightarrow N - \text{середина } DC$$

б) Пусть $S_{\triangle ABP} = S$; AP и AQ - медианы $\triangle ABQ$ и $\triangle DAP$ соответственно $\Rightarrow S_{\triangle DAQ} = S_{\triangle PAQ} = S_{\triangle ABP} = S$

$$\frac{S_{\triangle BPM}}{S_{\triangle ABP}} = \frac{PM}{AP} = \frac{1}{2} \Rightarrow S_{\triangle BPM} = \frac{1}{2}S_{\triangle ABP} = \frac{S}{2}; \quad \frac{S_{\triangle DQN}}{S_{\triangle AQD}} = \frac{QN}{AQ} = \frac{1}{2} \Rightarrow S_{\triangle DQN} = \frac{1}{2}S_{\triangle AQD} = \frac{S}{2}.$$

$$\text{Тогда } S_{CMPQN} = S_{ABCD} - S_{\triangle BPM} - S_{\triangle DQN} = 3S - S = 2S; \quad \frac{S_{CMPQN}}{S_{ABCD}} = \frac{2S}{6S} = \frac{1}{3}$$

Ответ: б) 1 : 3

5. Диагонали выпуклого четырехугольника ABCD пересекаются в точке P. В треугольники APB, BPC, CPD и APD вписаны окружности с центрами O₁, O₂, O₃, O₄ соответственно.

а) Докажите, что прямые O₁O₃ и O₂O₄ перпендикулярны

б) Пусть прямая O₁O₃ пересекает стороны AB и CD в точках M и N соответственно. Найдите отношение площадей треугольников CPN и DPN, если около четырехугольника ABCD можно описать окружность и AM : MB = 1 : 2.

а) O₁ - точка пересечения биссектрис ΔABP

Так как биссектрисы вертикальных углов лежат на одной прямой, то прямые O₁O₃ и O₂O₄ пересекаются в точке P.

∠O₁PO₄ = 90° (угол между биссектрисами смежных углов)

б) По свойству биссектрисы: $\frac{AM}{MB} = \frac{AP}{PB}$ и $\frac{DN}{NC} = \frac{DP}{PC}$

По теореме об отрезках пересекающихся хорд: $AP \cdot PC = DP \cdot PB \Rightarrow \frac{AP}{PB} = \frac{DP}{PC}$

$$\Rightarrow \frac{DN}{NC} = \frac{AM}{MB} = \frac{1}{2}; \quad \frac{S_{\Delta CPN}}{S_{\Delta DPN}} = \frac{NC}{DN} = \frac{2}{1}$$

Ответ: б) 2 : 1

